











Übungsblatt zum Kauf und Verkauf von Aktien

Aktiengesellschaft	Kaufkurs in €	Dividende in DM	Verkaufskurs in €	Besitzdauer in Tagen
	79,00	1,50	142,00	450
	44,00	2,00	43,00	168
	53,00	1,99	41,00	190
	64,50	2,20	83,40	300
	54,00	1,50	46,30	286
	57,20	2,10	42,50	256
	190,00	1,80	278,00	340
	260,00	2,20	352,00	290
	72,50	4,60	65,75	350
	16,80	1,10	19,45	280

1. Wähle aus den vorgegebenen Aktiengesellschaften 3 aus.
2. Erstelle zu diesen 3 ausgewählten Aktiengesellschaft die Bankabrechnungen beim Kauf von 250 Stück, Spesen 1 %.
3. Bilde jeweils den Buchungssatz für die drei Aktienkäufe.
4. Bilde jeweils den Buchungssatz für die Dividendenzahlungen per Bankgutschrift.
5. Erstelle zu den 3 ausgewählten Aktiengesellschaft die Bankabrechnungen beim Verkauf von 250 Stück, Spesen 1 %.
6. Bilde jeweils den Buchungssatz für die drei Aktienverkäufe.
7. Berechne jeweils die effektive Verzinsung zu den drei ausgewählten Aktiengeschäften.